

## PRACOVNÝ LIST PRE ŽIAKA

### TEST

1. Na základe obrázku dešifruj, o akú medzinárodnú organizáciu ide a aký je jej cieľ?



Názov organizácie: .....



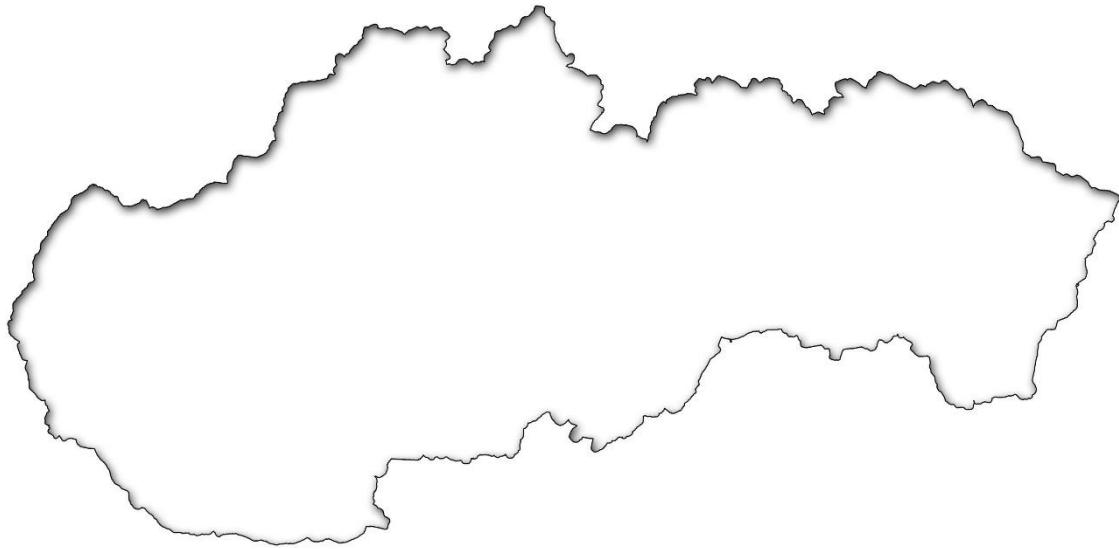
Cieľ: .....

United Nations  
Educational, Scientific and  
Cultural Organization

2. Do tabuľky k miestam vpíš, aká kultúrna alebo prírodná pamiatka sa v nich nachádza.

Názov pamiatky	Miesto
	1. Spišská Nová Ves
	2. Bardejov
	3. Banská Štiavnica
	4. Vihorlatské vrchy
	5. Vlkolínec
	6. Kežmarok
	7. Levoča

**3. Do slepej mapy Slovenska vyznač symbolom X s číslom 1 až 7 približnú polohu kultúrnych a prírodných pamiatok z prechádzajúcej úlohy.**



*Slepá mapa Slovenska*

Zdroj:

<https://www.scoop.it/t/zemepisnik/p/4056496174/2015/12/08/slepa-mapa-slovenska-geograficka-pomocka-pre-skoly-alebo-pre-zabavu>

**4. Ako sa volá mesto, ktoré sme v rámci školskej exkurzie navštívili?**

.....

**5. Podľa priložených obrázkov urč, o akú pamiatku zo školskej exkurzie ide.**

Obrázok č. 1 .....

Obrázok č. 2 .....

Obrázok č. 3 .....


Obrázok č. 4 .....

Obrázok č. 5 .....


Obrázok č. 1




Obrázok č. 2



Obrázok č. 3



Obrázok č. 4



Obrázok č. 5

**6. Navrhni ďalšie 3 pamiatky zo svojho okolia, ktoré by mali byť zaradené do zoznamu svetového dedičstva.**

- A. ....
- B. ....
- C. ....

**7. Komisia pre zaradenie pamiatky do zoznamu svetového dedičstva ti dala možnosť vybrať len jednu pamiatku. O ktorú by išlo? Svoju tvrdenie zdôvodni vhodnými argumentmi.**

pamiatka: .....

zdôvodnenie: .....

.....

.....